



EMDUR – Empresa de Desenvolvimento Urbano e Rural de Toledo

CONCURSO PÚBLICO 01 / 2010

• 05 / SETEMBRO / 2010 •

CARGO DE: CARPINTEIRO

Nome por extenso: _____
(Use letra de forma)

Inscrição nº _____ Assinatura: _____

INSTRUÇÕES

- 1) Escreva, na capa do caderno de prova, o seu nome (por extenso e com letra de forma) e o seu número de inscrição. Assine em seguida
- 2) Este caderno de prova contém: **40 (quarenta)** questões objetivas, numeradas de 01 a 40, sendo 05 (cinco) de Português, 05 (cinco) de Matemática, 10 (dez) de Conhecimentos Gerais e 20 (vinte) de Conhecimentos Específicos.
- 3) A duração da prova será de 04 (quatro) horas, já incluindo o tempo para o preenchimento da Folha de Respostas.
- 4) A interpretação das questões é parte integrante da prova, não sendo, portanto, permitidas perguntas aos Fiscais..
- 5) A prova é INDIVIDUAL, sendo vedada a comunicação entre os candidatos durante sua realização.
- 6) Será eliminado o candidato que utilizar material de consulta ou qualquer sistema de comunicação.
- 7) Em cada questão objetiva, há somente uma resposta correta. Para facilitar, posteriormente, o preenchimento da Folha de Respostas, você poderá marcar, no modelo ao lado, a letra da alternativa que considera correta, antes de transcrevê-la para a Folha de Respostas.
- 8) O candidato só poderá sair da sala depois de transcorrido o tempo mínimo de 1h do início da prova, podendo levar consigo somente o gabarito destacável.
- 9) Ao receber sua Folha de Respostas, aja da seguinte forma:
 - a. verifique se os dados pré-impessos estão corretos;
 - b. assine no local indicado;
 - c. preencha corretamente, com caneta esferográfica ponta média, tinta preta ou azul-escuro, o campo correspondente à alternativa que considera correta em cada questão;
 - d. não a amasse, não a dobre e não a rasure.
- 10) Os dois últimos candidatos de cada sala deverão entregar suas folhas de resposta e retirar-se do local simultaneamente.

Atenção:

- Utilize caneta, ponta média, tinta preta ou azul-escuro, para preencher os campos solicitados.
- Preencha assim:
- Marcar mais de uma alternativa anulará a resposta.

1	2	3	4	5	6	7	8	9	10	11	12	13	14	15	16	17	18	19	20
21	22	23	24	25	26	27	28	29	30	31	32	33	34	35	36	37	38	39	40

GABARITO (Destaque na linha pontilhada)

LÍNGUA PORTUGUESA

SOS Mata Atlântica

A mata Atlântica é atualmente a floresta tropical mais ameaçada do mundo.

A destruição dessa belíssima floresta vem acontecendo desde o descobrimento. Logo que chegaram, os europeus começaram a extrair da mata Atlântica um produto que tinha muito valor: o pau-brasil. Essa madeira era usada na produção de tinta para colorir tecidos.

Isso foi só o começo. Depois, as imensas plantações de cana-de-açúcar e de café, o crescimento das cidades e a instalação de indústrias continuaram destruindo rapidamente essa riquíssima reserva natural do planeta. Nos dias atuais, restam aproximadamente apenas 7% da área original da floresta e, lamentavelmente, a devastação continua. Segundo dados da ONG Fundação SOS Mata Atlântica, a cada quatro minutos a floresta perde uma área do tamanho de um campo de futebol.

QUESTÃO 01

Assinale a alternativa correta.

A expressão “**essa riquíssima reserva natural do planeta**” (linha 11) está retomando outro elemento já mencionado anteriormente. A que elemento do texto refere-se essa expressão?

- A) às plantações de cana-de-açúcar;
- B) ao pau-brasil.
- C) à mata Atlântica.
- D) às plantações de café.
- E) às cidades e indústrias.

QUESTÃO 02

Assinale a alternativa correta.

De acordo com o texto, é correto afirmar que:

- A) A mata Atlântica está atrapalhando o crescimento das cidades e indústrias.
- B) A cada quatro minutos perdemos um campo de futebol por causa da floresta.
- C) A mata Atlântica vem sofrendo destruição desde o seu descobrimento.
- D) Desde o seu descobrimento até aos dias atuais, 7% da área original da floresta foi, lamentavelmente, destruída.
- E) O crescimento das cidades e a instalação de indústrias enriquecem as reservas naturais do planeta.

QUESTÃO 03

Assinale a alternativa em que todas as palavras estão escritas, corretamente, no PLURAL:

- A) caminhões, país, funils, degrais.
- B) caminhãos, países, funiles, degraus.
- C) caminhãos, países, funis, degrais.
- D) caminhões, países, funis, degraus.
- E) caminhãos, país, funis, degraus.

QUESTÃO 04

Conforme a norma padrão de ACENTUAÇÃO gráfica, assinale a alternativa que apresenta TODAS as palavras escritas corretamente:

- A) fusível, serróte, lapis, chapéu.
- B) fusível, serróte, lápis, chápéu.
- C) fusível, serrote, lapís, chapéu.
- D) fusível, serrote, lapís, chapéu.
- E) fusível, serrote, lápis, chapéu.

QUESTÃO 05

De acordo com a regra padrão de ortografia, indique a alternativa em que TODAS as palavras estão escritas corretamente:

- A) garagem, viagem, ajeitar.
- B) enxada, enxer, enchoval.
- C) pratadeira, cabelereiro, cadiado.
- D) carrossa, fumaça, aliança.
- E) altomóvel, autoridade, autitude.

MATEMÁTICA

QUESTÃO 06

Assinale a alternativa correta.

Um fazendeiro vendeu um boi de 300 kg a R\$ 4,00 o kg. Qual foi o preço total que ele recebeu pela venda desse boi?

- A) R\$ 1.200,00.
- B) R\$ 300,00.
- C) R\$ 600,00.
- D) R\$ 75,00.
- E) R\$ 1.000,00.

QUESTÃO 07

Em uma prova de 25 questões, a cada resposta certa, o aluno ganha 4 pontos e cada resposta errada, ele perde 1 ponto. Qual foi a nota de um aluno que acertou 20 questões nesta prova? Assinale a alternativa correta.

- A) 80.
- B) 70.
- C) 60.
- D) 75.
- E) 85.

QUESTÃO 08

Assinale a alternativa correta.

Quantos metros de tela serão necessários para cercar um terreno retangular de 20 metros de largura por 30 metros de comprimento?

- A) 70.000 metros.
- B) 100 metros.
- C) 600 metros.
- D) 300 metros.
- E) 200 metros.

QUESTÃO 09

Assinale a alternativa correta.

Uma casa foi construída em 20 dias, sendo o custo diário com mão de obra de R\$ 400,00. Seu gasto com mão de obra totalizou quantos reais?

- A) R\$ 800,00.
- B) R\$ 1.600,00.
- C) R\$ 8.000,00.
- D) R\$ 400,00.
- E) R\$ 20.000,00.

QUESTÃO 10

Assinale a alternativa correta.

Para fazer a viagem de Santa Catarina a São Paulo, o motorista Lorivaldo tinha R\$ 6.000,00. Mas antes de viajar ele teve que comprar 4 pneus, sendo que o custo de cada um é de R\$ 500,00. Quantos reais restaram para este motorista viajar?

- A) R\$ 5.000,00.
- B) R\$ 4.000,00.
- C) R\$ 3.000,00.
- D) R\$ 1.000,00.
- E) R\$ 4.500,00.

CONHECIMENTOS GERAIS**QUESTÃO 11**

Assinale a alternativa correta.

A Câmara de vereadores dos municípios, a Assembléia dos deputados estaduais e o congresso nacional, fazem parte de que poder da união?

- A) Executivo.
- B) Legislativo.
- C) Inovador.
- D) Progressivo.
- E) Judiciário.

QUESTÃO 12

Assinale a alternativa correta.

Qual foi a primeira atividade econômica do município de Toledo, no início de sua colonização?

- A) A Indústria de Calçados.
- B) Comércio de artesanato.
- C) A Agropecuária.
- D) A extração da madeira.
- E) A extração do ouro.

QUESTÃO 13

Assinale a alternativa correta.

Em qual região brasileira está localizado o município de Toledo?

- A) Nordeste.
- B) Sul.
- C) Centro-oeste.
- D) Norte.
- E) Sudeste.

QUESTÃO 14

Assinale a alternativa correta.

Que lei federal estabelece normas de finanças públicas voltadas para a responsabilidade na gestão fiscal e dá outras providências?

- A) Diretrizes e Bases da Indústria.
- B) Cadastro de Contribuintes Bancários.
- C) Lei da Agricultura.
- D) Lei Complementar 101/2000
- E) Diretrizes e Bases da Educação.

QUESTÃO 15

Assinale a alternativa correta.

Que países construíram a Hidrelétrica de Itaipu?

- A) Brasil e Uruguai.
- B) Brasil e Argentina.
- C) Brasil e Paraguai.
- D) Brasil, Paraguai e Uruguai.
- E) Brasil, Paraguai e Argentina.

QUESTÃO 16

Assinale a alternativa correta.

Que presidente da República brasileira construiu Brasília?

- A) Getúlio Vargas.
- B) Janio Quadros.
- C) Castelo Branco.
- D) João Goulart.
- E) Juscelino Kubistchek.

QUESTÃO 17

Assinale a alternativa correta.

Que festa é realizada em Toledo há mais de 30 anos, e é um dos maiores eventos gastronômicos do estado do Paraná?

- A) Festa Nacional do Porco no Rolete.
- B) Festa do Frango Assado.
- C) Festa do Leitão Russo.
- D) Festa Nacional do Frango à Paraguaia.
- E) Festa Nacional do Strognoff.

QUESTÃO 18

Assinale a alternativa correta.

O município de Toledo está situado em qual região do Paraná?

- A) Sul.
- B) Oeste.
- C) Leste.
- D) Nordeste.
- E) Sudeste.

QUESTÃO 19

Assinale a alternativa correta.

Que municípios fazem limite com o município de Toledo?

- A) Mercedes e Rancho Alegre.
- B) Nova Aurora e Céu Azul.

- C) Ramilândia e Santa Helena.
- D) Marechal Cândido Rondon e Cascavel.
- E) Terra Roxa e Guaíra.

QUESTÃO 20

Assinale a alternativa correta.

Que empresa localizada em Toledo, desde 1904, se destaca como a maior indústria instalada no município?

- A) MARIPÁ.
- B) COPACOL.
- C) FRIMESA.
- D) SADIA.
- E) FAVILE.

CONHECIMENTOS ESPECÍFICOS**QUESTÃO 21**

A sequência de operações para início de trabalhos de carpintaria está correta na alternativa:

- A) Selecionar os materiais, separar as ferramentas, planejar o trabalho, verificar o projeto.
- B) Verificar o projeto, selecionar os materiais, separar as ferramentas, planejar o trabalho.
- C) Selecionar as ferramentas, separar os materiais, verificar o projeto, planejar o trabalho.
- D) Verificar o projeto, planejar o trabalho, selecionar os materiais, separar as ferramentas.
- E) Planejar o trabalho, separar as ferramentas, verificar o projeto, selecionar os materiais.

QUESTÃO 22

Assinale a alternativa correta.

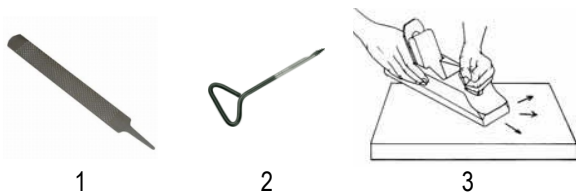
Um carpinteiro informou à prefeitura que, se trabalhar 8 horas por dia, concluirá um serviço em nove dias e meio. É correto afirmar que ele trabalhará, no total:

- A) 72 horas.
- B) 76 horas.
- C) 80 horas.
- D) 90 horas.
- E) 94 horas.

QUESTÃO 23

Assinale a alternativa correta.

As figuras 1, 2 e 3 representam, na sequência, as ferramentas:



- A) Grosa, verrumba e tupia.
- B) Grosa, verrumba e desempenadeira.
- C) Verrumba, grossa e plaina.
- D) Verrumba, grossa e desempenadeira.
- E) Grosa, verrumba e plaina.

QUESTÃO 24

Assinale a alternativa correta.

A grossa é utilizada para:

- A) Abrir buracos.
- B) Escurecer a madeira.
- C) Desbastar a madeira.
- D) Recortar a madeira.
- E) Modelar curvas.

QUESTÃO 25

Assinale a alternativa correta.

Qual das ferramentas listadas abaixo é utilizada pelo Carpinteiro para o transporte e marcação de ângulos?

- A) Nível de bolha.
- B) Trena.
- C) Suta.
- D) Prumo de centro.
- E) Metro.

QUESTÃO 26

Assinale a alternativa correta.

São tipos de lixadeiras elétricas:

- A) Cinta, de corda e excêntrica.
- B) Cinta, orbital e excêntrica.
- C) Orbital, excêntrica e recíproca.
- D) Recíproca, de corda e orbital.
- E) Recíproca, orbital e excêntrica.

QUESTÃO 27

Assinale a alternativa correta.

Para que as ferramentas de trabalho tenham maior durabilidade, o carpinteiro deve:

- A) Usar o mínimo possível.
- B) Manter as ferramentas sempre guardadas.
- C) Manter as ferramentas sempre limpas, amoladas e, ao final do serviço, guardar em lugar adequado.
- D) Usar as ferramentas de qualquer modo.
- E) Emprestar para todos os colegas da obra.

QUESTÃO 28

Assinale a alternativa correta.

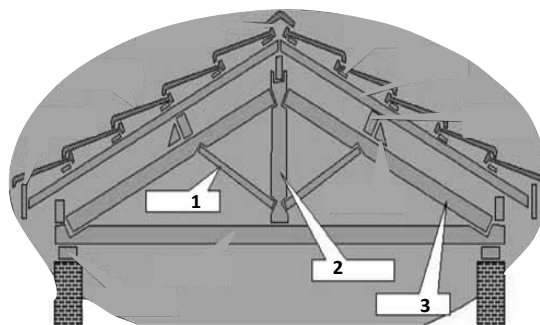
A peça da estrutura do telhado que serve para apoiar os caibros, evitando que eles fiquem abaulados, é chamada de:

- A) Ripa.
- B) Terça.
- C) Empena.
- D) Pendural.
- E) Linha.

QUESTÃO 29

Assinale a alternativa correta.

Qual o nome das peças indicadas pelos números 1, 2 e 3 na figura abaixo, em ordem:



- A) Diagonal, pendural e empena.
- B) Pendural, diagonal e empena.
- C) Chafuz, pendural e empena.
- D) Diagonal, pendural e chafuz.
- E) Pendural, chafuz e empena.

QUESTÃO 30

Assinale a alternativa que apresenta o nome da última peça do telhado:

- A) Tirante.
- B) Frechal.

- C) Suspensório.
- D) Cumeeira.
- E) Pendural.

QUESTÃO 31

Assinale a alternativa correta.

Para facilitar a remoção das formas do concreto é indicado que sejam usados na confecção das mesmas:

- A) Pregos de duas cabeças.
- B) Pregos sem cabeça.
- C) Pregos galvanizados.
- D) Pregos de acabamento.
- E) Pregos de corte.

QUESTÃO 32

Assinale a alternativa correta.

A peça de madeira que compõe a parte inferior de uma janela e serve de apoio a quem nela se debruça é chamada de:

- A) Peitoril.
- B) Pingadeira.
- C) Esquadria.
- D) Verga.
- E) Quadro.

QUESTÃO 33

Assinale a alternativa correta.

A janela que permite direcionar o fluxo de ar para a direita ou para a esquerda, conforme figura abaixo é classificada como:



- A) Camarão.
- B) Persiana.
- C) Guilhotina.
- D) De correr
- E) Pivotante.

QUESTÃO 34

Assinale a alternativa correta.

Um material muito utilizado para a confecção de formas e tapumes é a madeira compensada, que é composta por:

- A) Cacos de madeira e cola.
- B) Cacos de madeira, serragem e cola.
- C) Serragem e cola.
- D) Lâminas de madeira sobrepostas e cola.
- E) Restos de madeira e cola.

QUESTÃO 35

Assinale a alternativa correta.

Qual das madeiras abaixo é uma madeira leve?

- A) Ipê.
- B) Canafistura.
- C) Jatobá.
- D) Caixeta.
- E) Sucupira.

QUESTÃO 36

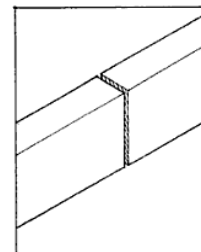
Para a fechadura de uma porta, a altura do eixo da maçaneta em relação ao piso deve ser de aproximadamente:

- A) 70 cm.
- B) 80 cm.
- C) 100 cm.
- D) 120 cm.
- E) 210 cm.

QUESTÃO 37

Assinale a alternativa correta.

A figura abaixo apresenta um tipo de ligação comumente feito em peças de madeira, o qual é denominado de:



- A) Meio encaixe.
- B) Encaixe quadrado.
- C) Junta de topo.
- D) Macho e fêmea.
- E) Serrilhado.

QUESTÃO 38

Assinale a alternativa correta.

No ambiente de trabalho, o carpinteiro deve ser comportar da seguinte forma:

- A) Manter um bom relacionamento com os superiores e colegas obedecendo às normas da empresa, atendendo o público com respeito e dedicação.
- B) Usar os equipamentos de segurança somente quando houver supervisão na obra.
- C) Fiscalizar as leis trabalhistas e as convenções.
- D) Cumprir os horários determinados e executar as tarefas, somente, quando supervisionadas.
- E) Deixar a limpeza e organização do local de trabalho a cargo dos colegas.

QUESTÃO 39

Assinale a alternativa correta.

Os equipamentos de proteção individual obrigatórios para o carpinteiro são:

- A) Protetor facial, calçado de segurança e capacete.
- B) Luva de raspa, calçado de segurança e cinto de segurança.
- C) Luva de raspa, protetor facial e avental de raspa.
- D) Luva de raspa, avental de raspa e calçado de segurança.
- E) Luva de raspa, calçado de segurança protetor facial.

QUESTÃO 40

Os Equipamentos de Proteção Individual do trabalhador são todos aqueles destinados a:

- A) Diminuir a ocorrência de acidente.
- B) Diminuir as doenças do trabalho.
- C) Atrapalhar as atividades da obra.
- D) Aumentar a ocorrência de acidente.
- E) proteger dos riscos que podem ameaçar a segurança do trabalhador.